

1

LES CAILLOUX DU PETIT POUCKET

Le Petit Poucet cherche des cailloux blancs pour marquer son chemin.

Il trouve 1, puis 5, puis encore 4 cailloux.

Dites combien le Petit Poucet a trouvé de cailloux.

Dessinez les cailloux trouvés par le Petit Poucet.



2

LES BOUTONS PERDUS

Jean-Louis avait 5 boutons sur son manteau. Il en a perdu 2.

Dites combien il lui reste de boutons.

Dessinez les 5 boutons.

Barrez ceux qui sont perdus.



3

LES FLEURS

Une petite fille a cueilli 3 fleurs.

Elle en cueille encore 2, puis encore 2.

Dites combien la petite fille a cueilli de fleurs.

Dessinez les fleurs cueillies par la petite fille.



4

LES POUSSINS

Une petite fille surveille ses 9 poussins.

Elle s'aperçoit qu'il en manque. Il n'y en a plus que 6.

Dites combien il manque de poussins.

Dessinez les 9 poussins.

Entourez d'un trait ceux qui manquent.



5

LES BILLES

Jean-Pierre a 2 billes rouges et 3 billes bleues ; il les rassemble dans une boîte.

Dites combien il a de billes.

Dessinez les billes dans la boîte.



6

LES SERVIETTES DES PETITS

Jeannette doit faire goûter des petits enfants. Elle a préparé 2 serviettes.

Il y a 7 petits enfants en tout.

Dites combien il manque de serviettes.

Dessinez les enfants et les serviettes.



7

LES FRAISES

Il y a 9 fraises.

Luc, Rose et Ida en mangent 2 chacun.

Calculez combien il reste de fraises.

Peuvent-ils en reprendre ?

Dessinez les fraises.



8

LES MOUCHOIRS RETROUVÉS

Martine a 3 mouchoirs dans son armoire. Elle en retrouve 1 dans son cartable, 1 dans sa poche et 1 sous son lit.

Dites combien Martine a de mouchoirs en tout.

Dessinez tous les mouchoirs.



9

LES MARCHES DU PERRON

Olivier balaie les marches du perron. Il en a déjà balayé 3.

Il y en a 9 en tout.

Dites combien Olivier a encore de marches à balayer.

Dessinez les marches.



10

VERRES ET TIMBALES

Rosine pose une timbale sur la table pour le bébé et un verre pour chaque grande personne ; elle a mis 6 verres.
Il arrive des amis. Rosine ajoute 2 verres et 2 timbales.

Calculez combien il y a de verres et de timbales sur la table.

Dessinez.

11

LES POMMES

Une petite fille avait quatre pommes.
Elle en donne deux à son frère, puis elle en mange une.

Dites combien il lui reste de pommes.

Dessinez les pommes qu'avait la petite fille et barrez celles quelle donne à son frère et celle quelle mange.

12

LES VERRES D'ORANGEADE

On a offert de l'orangeade à 3 personnes. Deux d'entre elles ont déjà vidé leur verre et en reprennent.

Combien a-t-on versé de verres d'orangeade ?

Dessinez.

13

LE SÉCHAGE DES MOUCHOIRS

Maman a mis 4 mouchoirs à sécher.
Pour les suspendre elle a utilisé 5 pinces à linge.

Dites combien il faudrait de pinces à linge pour suspendre de la même façon.. 7 mouchoirs ?

.. 8 mouchoirs ?

.. 9 mouchoirs ?

Dessinez.

14

LES CHAUSSETTES NEUVES

André a une paire de chaussettes neuves.
Louis, Paul, Martin et Jean aussi.

Dites combien cela fait de chaussettes en tout.

Dessinez ces chaussettes en les attachant 2 par 2.

15

FLEURS EN PAPIER

Aline fait des fleurs en papier. Elle a déjà découpé 8 pétales. Il faut 10 pétales par fleur.

Dites combien Aline découpe encore de pétales pour faire une fleur.

Dessinez les 10 pétales d'une fleur et marquez les 8 qui sont déjà découpés.

16

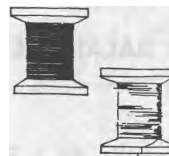
MAMAN MARQUE LES SERVIETTES

Maman a reçu 10 serviettes neuves. Elle en a déjà marqué 3.

Dites combien il lui en reste à marquer.

Dessinez les 10 serviettes et séparez celles qui sont déjà marquées.

17

LES BOBINES DE FIL

Maman a 1 bobine de fil blanc et 1 bobine de fil noir. Grand'mère a 4 bobines de fil blanc et 3 bobines de fil noir.

Dites combien il y a de bobines de fil blanc et combien de bobines de fil noir.

Dites combien cela fait de bobines au total.

Dessinez.

18

ON BALAIE L'ESCALIER

Camille dit à Pierre : « Laisse-moi balayer les marches de l'escalier. »
Pierre répond : « Si tu veux, mais j'en ai déjà balayé 5. »
Il y a 10 marches en tout.

Dites combien Camille aura de marches à balayer.

Dessinez les marches de l'escalier. Séparez par une raie celles qui sont déjà balayées.

19

LES FOURCHETTES



Sept personnes vont dîner.

Jean-Marie pose les fourchettes, 1 par personne et 1 au milieu de la table, pour le plat.

Dites combien il a mis de fourchettes sur la table.

Jean-Marie avait sorti 10 fourchettes du tiroir.


Dites combien il a pris de fourchettes en trop.

Dessinez les 10 fourchettes prises par Jean-Marie.

Indiquez celles qui sont en trop.

20

LES SEAUX D'EAU



Papa va chercher de l'eau au puits.

A chaque voyage il rapporte 2 seaux d'eau.


Il a fait 4 voyages.

Dites combien de seaux d'eau Papa a puisés.

Dessinez.

21

LES TARTELETTES



9 tartelettes étaient préparées

sur un plat.

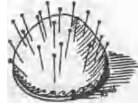
Il est venu 8 enfants qui en ont pris chacun une.

Dites combien il reste de tartelettes sur le plat.

Dessinez les tartelettes et indiquez celles qui ont été mangées.

22

LES ÉPINGLES DE LA COUTURIÈRE



Une couturière qui prépare un costume a 21 épingles sur une pelote.

Elle en prend 13 pour épingler un patron sur du tissu.

Dites combien il reste d'épingles sur la pelote.

Dessinez les épingles et entourez d'un trait celles quelle a employées.

23

BREBIS ET AGNEAUX



Germaine a 3 brebis

qui ont chacune 2 agneaux.

Calculez combien elle a de bêtes dans son troupeau.

Dessinez les brebis et les agneaux.

24

LES BRIOCHES



Après le goûter il ne reste que

3 brioches sur la table.

La petite Marie-Rose en a mangé une et chacune de ses trois sœurs en a mangé 2.

Dites combien il y avait de brioches sur la table.

Dessinez.

25

LE VASE DE FLEURS



Une petite fille avait mis 9 pensées dans un vase.


Le lendemain il y en a 2 de fanées. Elle les retire du vase. Le jour suivant, 3 autres pensées se sont fanées. Elle les retire aussi.

Dites combien il reste de pensées dans le vase.

Dessinez le vase de fleurs, le premier jour, le second jour, le troisième jour.

26

LES MOUCHOIRS BRODÉS



Des mouchoirs brodés sont vendus par boîtes de 6.

Une vendeuse en a vendu 4 boîtes

Calculez combien elle a vendu de mouchoirs.

Dessinez tous les mouchoirs. Entourez d'un trait les mouchoirs contenus dans chaque boîte.

27

LES RONDELLES DE POMMES



Grand'mère va faire sécher des pommes. Elle les coupe d'abord en rondelles. Une pomme donne 7 belles rondelles.

Grand'mère a déjà coupé 2 pommes.

Dites combien cela fait de rondelles.

Dessinez les rondelles.

28


LES BOUCHONS

Julien fabrique des petits moutons avec des bouchons et des allumettes. Il lui faut un bouchon pour faire le corps du mouton et un bouchon pour faire la tête. Il voudrait fabriquer 9 moutons.

Dites combien il lui faudra de bouchons.

Dessinez les bouchons.

29

LES CAMELS

Il y avait 10 caramels dans une boîte.

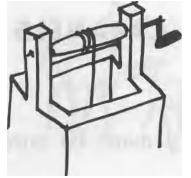
Léo en mange 2.

Marc en mange 3 et Bébé en mange un seul.

Combien reste-t-il de caramels ?

Dessinez.

30

LE PUIT

Papa a été chercher 14 seaux d'eau au puits.

S'il rapporte 2 seaux à chaque lois qu'il y va dites combien de fois il a été au puits.

Dessinez.

31

LA POULE BLANCHE

Pendant un mois, la poule blanche a pondu : 6 œufs, la première semaine, 5 œufs, la deuxième semaine, 4 œufs, la troisième semaine, 3 œufs, la quatrième semaine.

Dites combien la poule blanche a pondu d'œufs pendant le mois.

Dessinez tous les œufs.

32

LA DÉCORATION DE LA TABLE

Pour décorer la table du repas Louise pose à chaque place 3 feuilles de chêne et 1 gland. Il y a 6 places.

Dites combien elle utilisera de feuilles et combien de glands.

Dessinez les feuilles et les glands.

33

LES BARREAUX DE CHAISES

Victor dit :

« J'essuierai les barreaux de chaises. »

« Combien y en a-t-il ? » demande Henri.

« Il y en a 3 par chaise. » répond Victor.

Il y a 5 chaises, mais la cinquième a perdu un barreau.

Combien cela fait-il de barreaux à essuyer ?

Dessinez les barreaux des 5 chaises.

34

LES PANIERS DE FRAISES


Un petit garçon a cueilli un panier de fraises.

Sa grande sœur en a cueilli 2, sa maman 3 et son papa 4.

Dites combien ils ont cueilli de paniers de fraises en tout.

Dessinez les fraises.

35

LES TRÈFLES A TROIS FEUILLES

Jean-Jacques a disposé sur la table 6 trèfles à 3 feuilles.

Dites combien cela fait de petites feuilles de trèfle.

Dessinez les feuilles de trèfle.

36

UN PETIT ESCALIER

Jean s'est amusé à faire un petit escalier avec des briques ; il a mis :

1 brique pour la 1ère marche,

2 briques pour la 2ème marche,

3 briques pour la 3ème marche,

4 briques pour la 4ème marche,

il a assez de briques pour faire la 5ème marche.

Dites combien il a utilisé de briques. Dessinez.

37

LES GROS BOUTONS



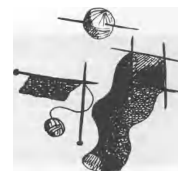
La couturière tait un manteau pour François et un pour Michel. Elle va mettre 8 gros boutons sur chaque manteau. Elle compte ses boutons, elle en a 19.

Dites combien il faut de boutons pour les deux manteaux et combien il en restera.

Dessinez les trois groupes de boutons : ceux de chaque manteau et ceux qui resteront inutilisés.

38

LES AIGUILLES A TRICOTER



Maman a un jeu d'aiguilles à tricoter comprenant 2 aiguilles de bois pour les tricots plats et un jeu d'aiguilles comprenant 5 aiguilles de métal pour tricoter des chaussettes. Tante Yvonne a 3 jeux comprenant 5 aiguilles et 2 jeux comprenant 2 aiguilles.

Combien tante Yvonne a-t-elle d'aiguilles de plus que Maman ? Dessinez.

39

SOUS UN POMMIER



Trois petits enfants et leur maman ramassent des pommes.

Ils ont ramassé, à eux tous, 25 pommes.


Tous les enfants ont ramassé le même nombre de pommes, mais la maman en a ramassé 7.

Dites combien les enfants ont ramassé de pommes à eux trois.

Dessinez ce que chaque enfant a ramassé.

40

LES PRUNEAUX



Il y a 12 pruneaux sur une assiette.

Maman dit à ses trois enfants :

« Prenez chacun 3 pruneaux. »


Les trois enfants se servent.

Dites combien il reste de pruneaux dans l'assiette.

Dessinez.

41

LES TORCHONS SUR LA CORDE A LINGE



Maman a déjà mis 4 torchons sécher sur la corde à linge. Elle a utilisé 2 pinces à linge pour suspendre chaque torchon.

Dites combien elle a utilisé de pinces à linge.

Dites combien il lui faudrait de pinces à linge pour suspendre 8 torchons.

Dessinez les torchons et les pinces à linge.

42

PAPA COUPE LE PAIN



Papa coupe 2 tranches de pain pour chaque enfant.


Combien faut-il de tranches de pain

pour 5 enfants ?

pour 11 enfants ?

43

LES SOLDATS DE BOIS



Lucien a un soldat de bois.

Marcel en a 1 de plus que Lucien,

Jules en a 1 de plus que Marcel,

Rodrigue en a 1 de plus que Jules

et Raoul en a 1 de plus que Rodrigue.

Dites combien ces petits garçons ont de soldats en tout.

Dessinez

44

LES ŒUFS DANS LE NID



La fermière a ramassé des œufs dans les nids. Elle en a trouvé 3 dans le premier nid. Elle en a trouvé 5 dans le second et 4 dans le troisième.

Dites combien il y avait d'œufs dans les nids.

Dessinez tous les œufs et entourez d'un trait ceux qui ont été trouvés dans chaque nid.

LES GLANDS



Émile a trouvé 2 glands sous un chêne.

Denise en a trouvé 4 de plus qu'Émile

et Alain en a trouvé 1 de moins que Denise.

Combien Denise a-t-elle trouvé de glands ? Et Alain ? Combien ont-ils trouvé de glands à eux trois ?

Dessinez.

46

LES BONBONS



Une dame a 14 bonbons.

Quatre enfants arrivent. Elle leur

donne des parts égales aussi grosses que possible.

Combien en donnera-t-elle à chacun des enfants ?

Combien en auront-ils reçu à eux quatre ?

En reste-t-il ?

Dessinez.

47

LES MOUTONS



Une petite fille garde des moutons

dans un pré. Elle en a 7.

Une de ses petites amies garde 12 moutons.

Elles veulent réunir les 2 troupeaux.

Combien cela fera-t-il de moutons en tout ?

Dessinez tous les moutons.

48

COURONNES DE FEUILLES



Jacqueline fait des couronnes de
feuilles de châtaignier.

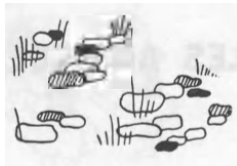
Elle a fait une couronne pour le bébé avec 5 feuilles,
une autre pour Emma avec 4 feuilles et une pour
elle-même avec 6 feuilles.

Combien lui a-t-il fallu de feuilles en tout ?

Dessinez.

49

LE PARTAGE DES CAILLOUX



Félix et Alfred ont ramassé ensemble 24 cailloux.

Félix les partage en disant à Alfred : « Un pour toi... un
pour moi... » en les alignant de chaque côté d'une raie.

Combien de cailloux auront-ils chacun ?

Dessinez les cailloux de chaque côté de la raie.

50

LES AMANDES GRILLÉES



Agnès a acheté un cornet d'amandes
grillées. Elle trouve 20 amandes quelle
partage avec sa petite sœur. Mais il arrive deux amies;
elle partage alors les 2 parts qu'elle avait faites.

Chacune des petites filles en a le même nombre.

Calculez la part de chacune des 4 petites filles.

Dessinez.

51

LES BOUTONS ROUGES



Une maman a fait pour chacun
de ses 4 enfants, un petit gilet sur
lequel elle a cousu 6 boutons rouges.

Dites combien il a fallu de boutons rouges.

Faites le dessin.

52

LES CAILLOUX PERDUS



Jérôme avait rempli ses poches
avec de jolis cailloux. S'apercevant
qu'une de ses poches est déchirée il
compte les cailloux qui lui restent : 7 dans une
poche et 11 dans l'autre. Puis il retrouve sur la
route les 6 cailloux perdus.

Combien avait-il mis de cailloux dans ses poches ?

Dessinez les cailloux.

53

LES CHAUSSETTES DES ENFANTS DÉSORDONNÉS



Véra, Odile, Marie et Nicolas ont
enlevé leurs chaussettes et les ont jetées
par terre, n'importe comment. Maman rassemble
les chaussettes et en trouve 5.

**Dites combien il devrait y avoir de chaussettes
et combien il en manque.** Faites le dessin.

54

LES LUNETTES



Une paire de lunettes comprend
2 verres. Un fabricant a 8 verres
incolores et 6 verres noirs.

**Combien fera-t-il, avec ces verres, de paires de
lunettes ordinaires et combien de paires de
lunettes noires? Combien faut-il de montures?**

Dessinez les verres incolores et les verres noirs
attachés 2 par 2.